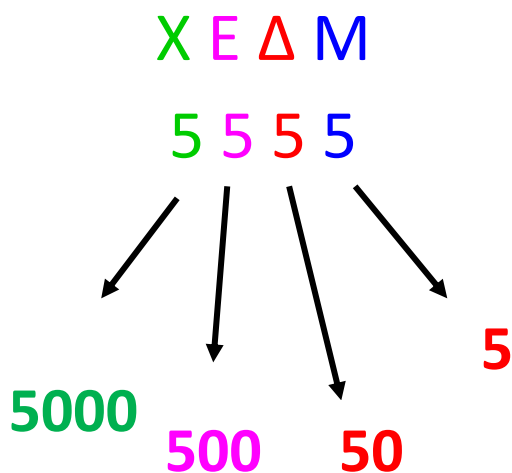


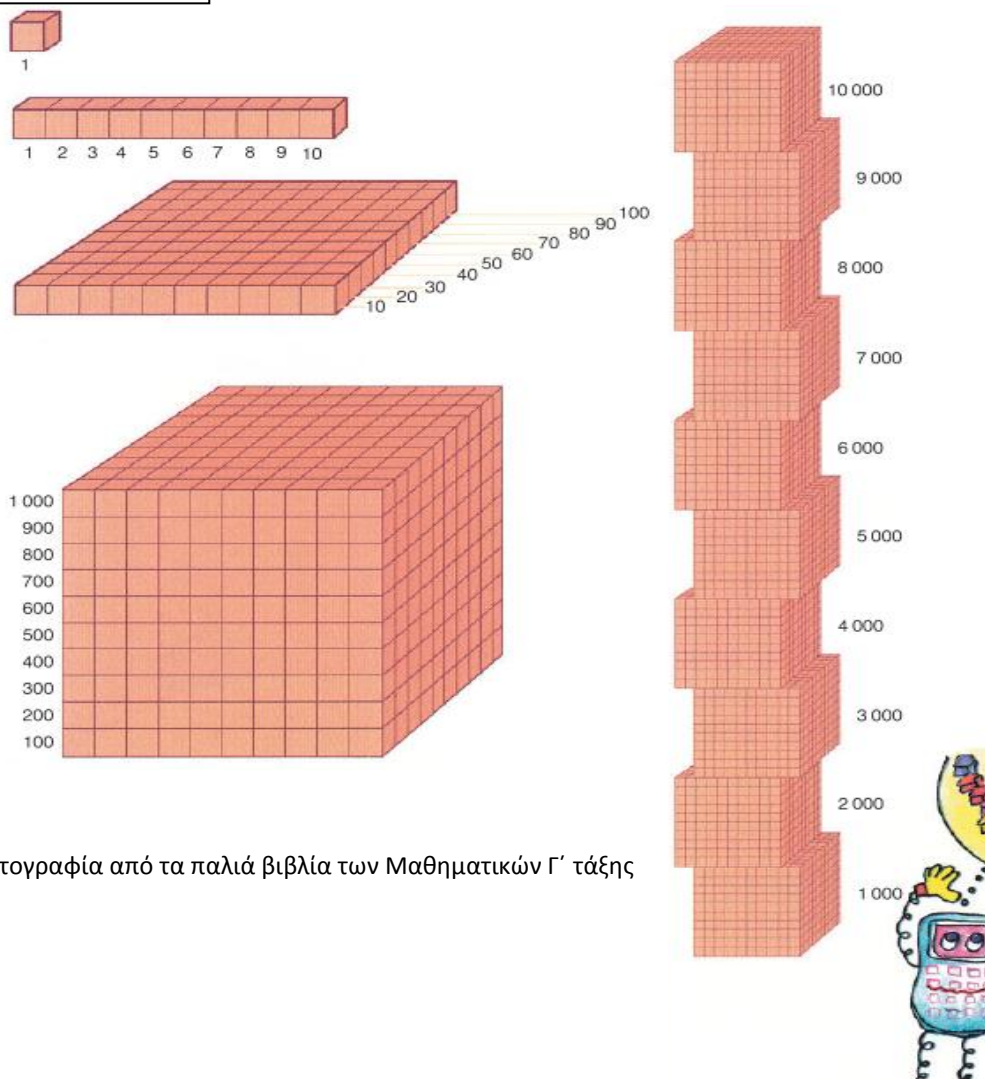
Αγαπημένα μου παιδιά,

Σήμερα στα Μαθηματικά θα θυμηθούμε τους **τετραψήφιους αριθμούς**. Θα θυμηθούμε την αξία της θέσης του κάθε ψηφίου, γιατί, όπως έχουμε ξαναπεί και στην τάξη, τα ψηφία έχουν διαφορετική αξία ανάλογα με τη θέση τους.

Ας δούμε τον αριθμό **5555** (πέντε χιλιάδες πεντακόσια πενήντα πέντε):



Μια μικρή βοήθεια επειδή δεν έχετε τους κύβους σας :

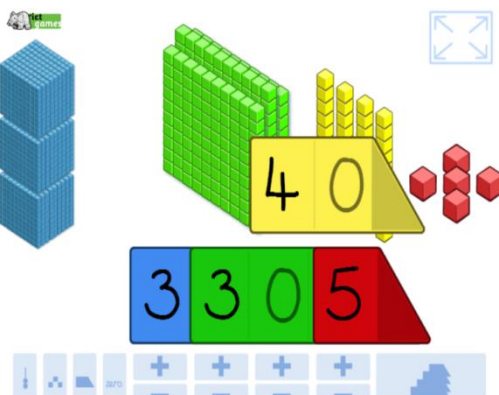
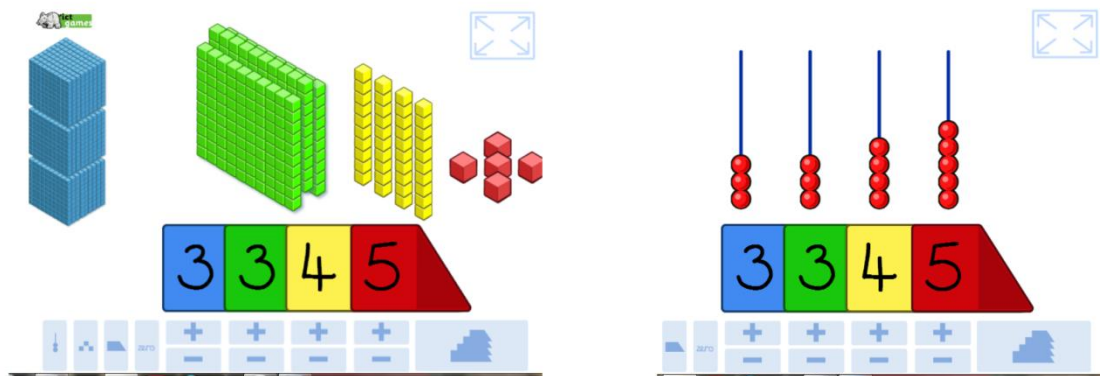


Φωτογραφία από τα παλιά βιβλία των Μαθηματικών Γ' τάξης

- Κάνετε τις ασκήσεις στο Βιβλίο σας σελ.20-22
- Μπείτε σε αυτή την ιστοσελίδα:

<https://www.ictgames.com/mobilePage/arrowCards/index.html>

Εδώ μπορείτε να **φτιάξετε τους τετραψήφιους αριθμούς** του βιβλίου σας **με κύβους** και στο **αριθμήτριο**. Επίσης μπορείτε, αν πατήσετε με το ποντίκι σας πάνω σε ένα ψηφίο και το μετακινήσετε, να δείτε την **αξία του**.



Περιμένω να μου στείλετε τις εργασιούλες σας !